

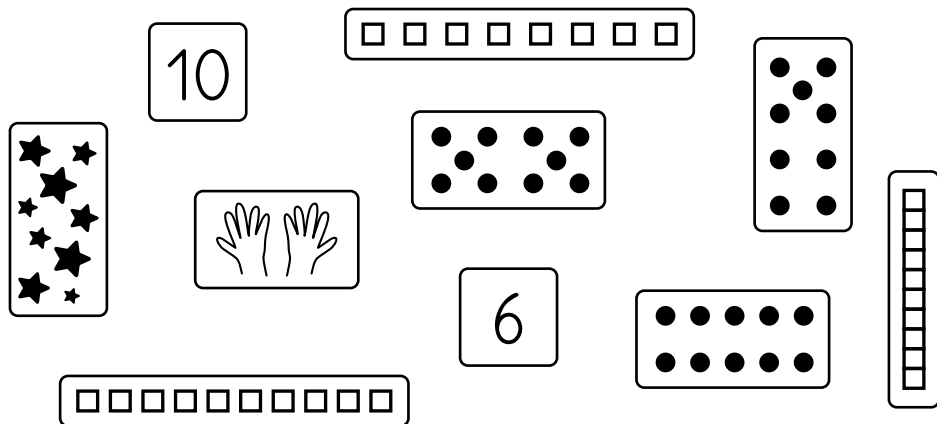
MES RÉUSSITES

MATHS EN CP
Période 1 • page 1/4

Prénom Date

JE CONNAIS DIVERSES REPRÉSENTATIONS D'UN NOMBRE JUSQU'À 10.

Entoure toutes les cartes qui font dix.



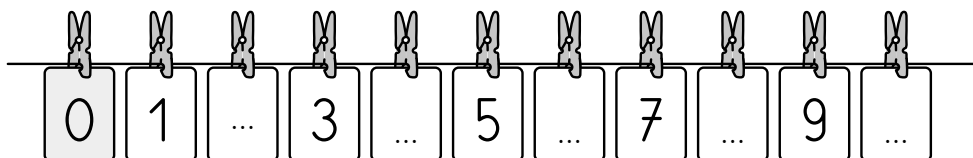
JE SAIS REPÉRER UNE POSITION DANS UNE LISTE D'OBJETS.

Trace une croix sous la 6^e voiture.



JE SAIS ASSOCIER UN NOMBRE À UNE POSITION SUR UNE BANDE NUMÉRIQUE.

Écris les nombres manquant sur les cartes.



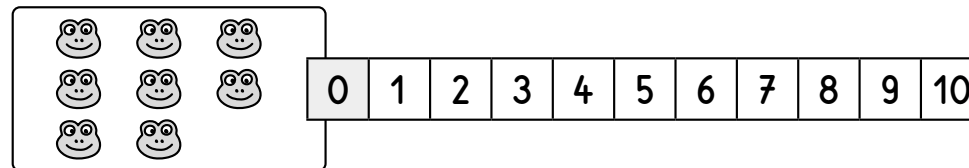
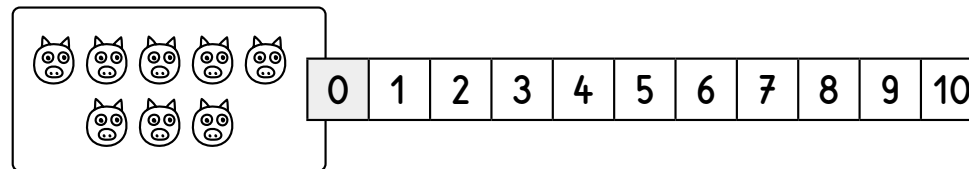
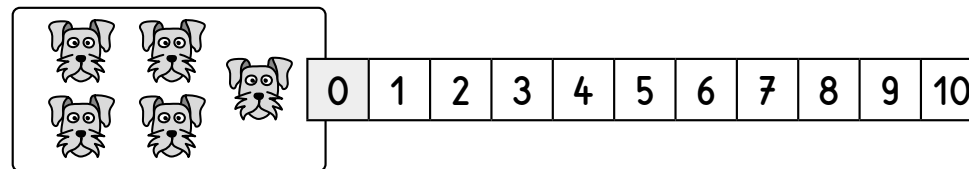
MES RÉUSSITES

MATHS EN CP
Période 1 • page 2/4

Prénom Date

JE SAIS DÉNOMBRER DES COLLECTIONS JUSQU'À 10.

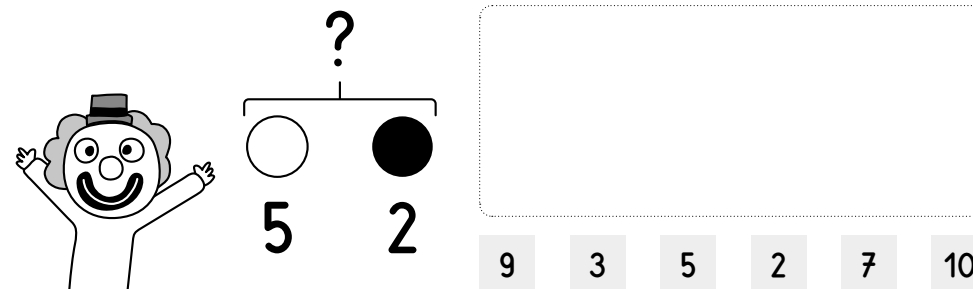
Entoure sur la bande numérique le nombre d'animaux dessinés sur la carte.



JE SAIS RÉSOUDRE UN PROBLÈME ADDITIF EN UNE ÉTAPE DU TYPE PARTIES-TOUT.

Le clown a cinq balles blanches et deux balles noires.
Combien de balles le clown a-t-il en tout ?

Entoure la réponse dans la liste.



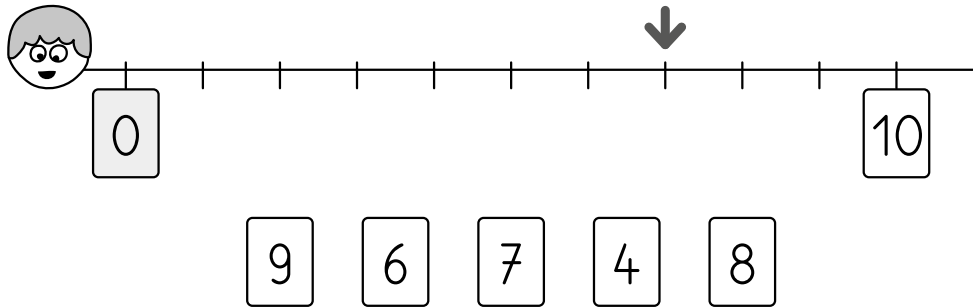
MES RÉUSSITES

MATHS EN CP
Période 1 • page 3/4

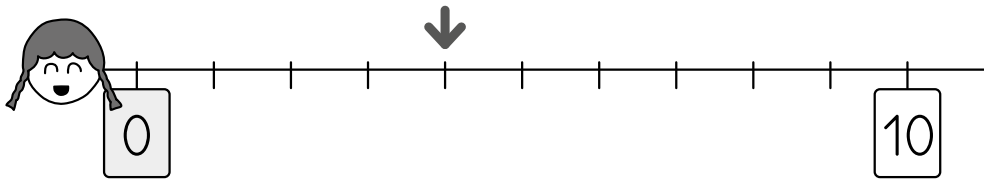
Prénom Date

 JE SAIS PLACER DES NOMBRES SUR UNE DEMI-DROITE GRADUÉE DE UN EN UN.

Trouve le nombre qu'indique chaque flèche.
Entoure ce nombre dans la liste.



9 6 7 4 8



7 5 3 6 4

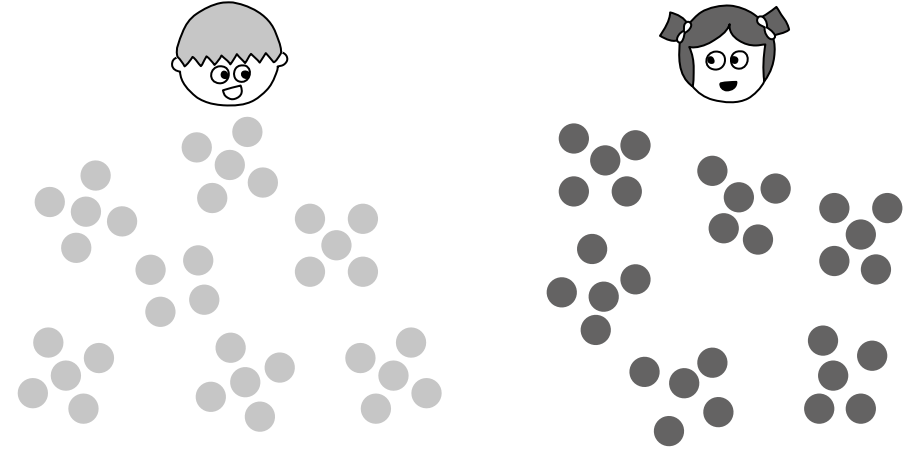
MES RÉUSSITES

MATHS EN CP
Période 1 • page 4/4

Prénom Date

 JE SAIS COMPARER DES COLLECTIONS EN LES ORGANISANT.

Entoure l'enfant qui a le plus de jetons ou les deux enfants s'ils ont le même nombre de jetons.



 JE SAIS RECONNAITRE LA DROITE OU LA GAUCHE D'UNE PERSONNE SUR UN DESSIN.

Entoure les enfants qui tiennent leur crayon dans la main gauche.

